






Име: _____

Дата: _____

Островът на загачките

Разгледай забележителностите на Острова и реши загачките, които те очакват на всяка спирка от твоеото пътешествие!

Напиши подробно цялото решение	Оцвети при правилно решена задача
<p>1. Вход за Музея на времето Билет за деца струва 30 евро, а за възрастни – 70 евро. Мая отива с татко си. Колко общо ще платят за двамата? Решение: _____ _____ _____</p>	
<p>2. Ботаническата градина В градината растат 50 розови, 30 лилави и 20 жълти цветя. Колко цветя има общо? Решение: _____ _____ _____</p>	

<p style="text-align: center;">Напиши подробно цялото решение</p>	<p style="text-align: center;">Оцвети при правилно решена задача</p>
<p>3. Сувенирен магазин Асен си купил магнит за 20 евро и тефтерче за 40 евро. Имал е 100 евро. Колко пари са му останали? Решение:</p> <p>_____</p> <p>_____</p> <p>_____</p>	
<p>4. Разходка около езерото Обиколката около езерото е 80 метра. Ани изминала първо 30 метра, после още 40 метра. Колко метра ѝ остават до края? Решение:</p> <p>_____</p> <p>_____</p> <p>_____</p>	
<p>5. Сладоледи пред Аквариума Група деца купили 3 сладоледа, всеки по 10 евро. Колко платили общо? Решение:</p> <p>_____</p> <p>_____</p> <p>_____</p>	

Лист за самопроверка: Островът на задачите



Сравни своите отговори с решенията.

- Ако задачата е вярна, оцвети знака срещу нея на работния лист.
- Ако има разлика – помисли къде може да е грешката и поправи смело!

Провери всеки отговор. Ако имаш нужда от помощ – попитай приятел или учител.

<p>1. Вход за Музея на времето $30 + 70 = 100$ евро</p>	
<p>2. Ботаническата градина $50 + 30 + 20 = 100$ цветя</p>	
<p>3. Сувенирен магазин $20 + 40 = 60$ $100 - 60 = 40$ евро</p>	
<p>4. Разходка около езерото $30 + 40 = 70$ $80 - 70 = 10$ метра</p>	
<p>5. Сладоледи пред Аквариума $10 + 10 + 10 = 30$ евро</p>	

Поздравления, пътешественико!

