


Име на група: Дата:

Мисия „Сравни и изчисли в Космоса“

Задача 1. Решете задачата.



С 4 по-малко

???

На една станция има 12 космически скафанъра. На друга станция има с 4 по-малко.

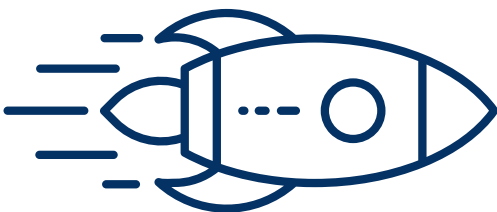
Колко скафанъра има на втората станция?

Решение: _____

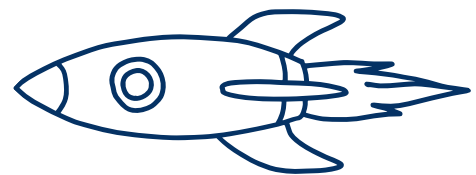
Отговор: _____

Задача 2. Решете задачата.

Ракета „Орион“



Ракета „Галактика“



С 5  повече


На ракетата „Орион“ има 8 литра вода. На ракетата „Галактика“ има с 5 литра повече вода.

Колко литра вода има на ракетата „Галактика“?

Решение: _____

Отговор: _____

Задача 3. Разгледайте картинката. Съставете устно задача по нея



Решение: _____

Отговор: _____