

РЕБУСИ

Клас: 4. ____

Име: _____

Дата: _____

Попълни отговорите на ребусите.

Нуво 1

Three empty rounded rectangular boxes for writing answers.



Нуво 2

Three empty rounded rectangular boxes for writing answers.



Нуво 3

Two empty rounded rectangular boxes for writing answers.



ВИДЕО ПЪТЕВОДИТЕЛ

Клас: 4. ____

Име: _____

Дата: _____

Изслушай внимателно видеото. Попълни пропуснатите места.

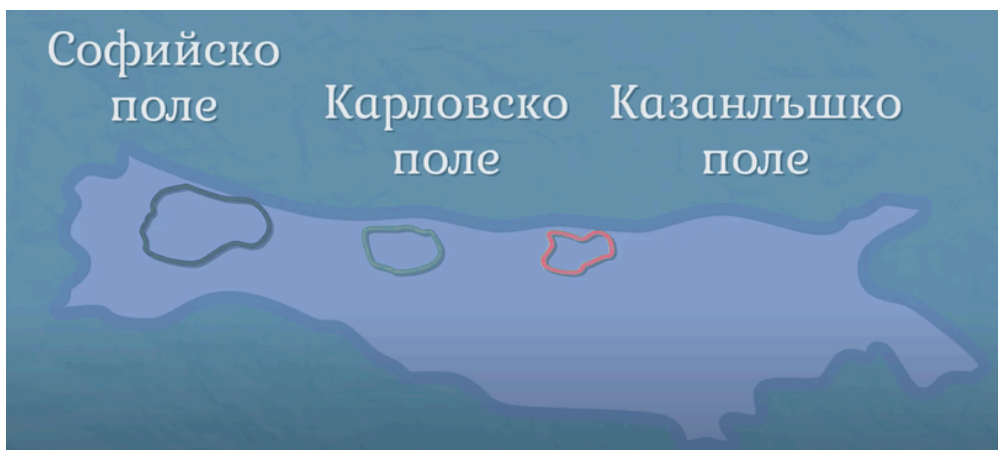


Местоположение: На север тя граничи със (1) област, на юг – с Рило-Родопската, на изток – с Черноморието, а на запад – със Сърбия и (2)

Релефът на областта е разнообразен, като включва планини, (3) и низини. Най-високата планина в областта е (4) , а най-ниските са Сакар и (5)



Старопланинската, Македония, полета, Витоша, Странджа



За̀б̀ал̀ка̀н̀скѝтѐ по̀лѐта̀ се намират между Стара планина, Витоша и Средна гора. (6) поле е най-гъстонаселено, докато Карловското и Казанлъшкото са известни като (7)

Горнотракийската низина се намира между Средна гора, Родопите и Рила. Плодородната ѝ почва е подходяща за отглеждане на различни култури, включително зеленчуци, плодове, грозде, пшеница, (8) , (9) и (10) . Големи градове в тази област са Пловдив, (11) и Хасково.

Средна гора е планина, разположена на (12) от Стара планина. Районът е известен със своите гори, пасища, животновъдство, дървообработване, добив на (13) и туризъм. Планината разполага и с множество (14) , които се използват за лечение на различни заболявания.



Софийското, „Долината на розите“, памук, ориз, фъстъци, Стара Загора, юг, мед, минерални извори



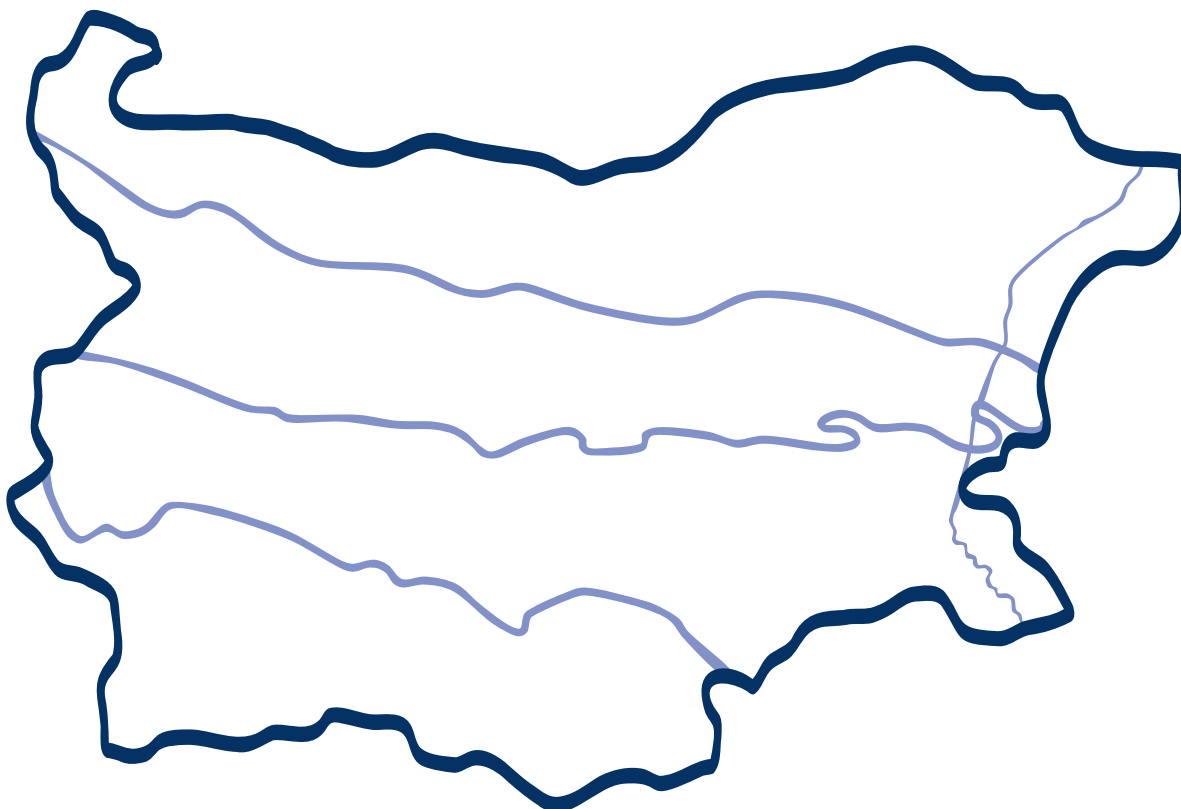
ПОЗНАВАМ ПРЕХОДНАТА ОБЛАСТ

Клас: 4. ____

Име: _____

Дата: _____

1. Оцвети Преходната област в подходящи цветове.
2. Нанеси на картата с подходящи знаци и наименованията на следните обекти
гр. София, вр. Черни връх, Витоша, р. Марица, гр. Пловдив, Карловско поле,
Казанлъшко поле, Сакар, Горнотракийската низина.



3. Опиши основните стопански дейности, с които хората в региона се изхранват.

САМООЦЕНКА

Как се справи с този работен лист?



ПРИЛОЖЕНИЕ 1


Човек и общество

4 клас

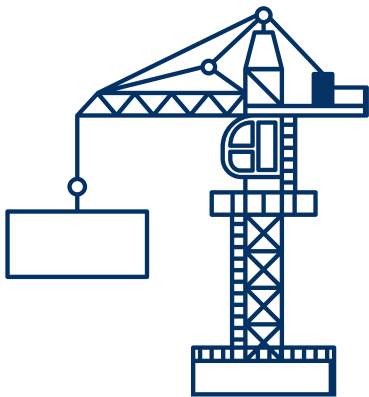
n




**ОТГЛЕЖДАНЕ НА
МАСЛОДАЙНА РОЗА**




РОЗОВО МАСЛО




СТРОИТЕЛСТВО



СГРАДИ



ЖИВОТНОВЪДСТВО

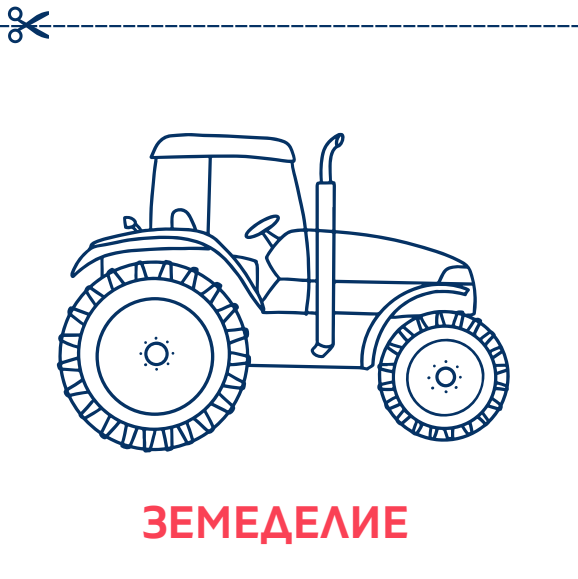


**ЗЕЛЕНЧУЦИ, ПЛОДОВЕ,
ОВЕС..**

ПРИЛОЖЕНИЕ 1

Човек и общество

4 клас





ПРИМЕРЕН СПИСЪК С ОБЕКТИ НА „ГЕОГРАФСКИ ВЕРИГИ“ ЗА УЧИТЕЛЯ

1. Преходна област (начална гума)
2. Загбалкански полета
3. Софийско поле
4. София
5. Витоша
6. Средна гора
7. Карловско поле
8. Долина на розите
9. Казанлък
10. Розово масло
11. Горнотракийска низина
12. Пловдив
13. Стара Загора
14. Хасково
15. Марица
16. Арга
17. Сакар
18. Странджа
19. Земеделие
20. Минерални извори