




Номерирайте кръговете от най-малкия към най-големия




Най-малкото число е
за най-малкия кръг

Най-голямото число е
за най-големия кръг



Номерирайте кръговете от най-малкия към най-големия




Най-малкото число е
за най-малкия кръг

Най-голямото число е
за най-големия кръг



Номерирайте кръговете от най-малкия към най-големия



Най-малкото число е
за най-малкия кръг

Най-голямото число е
за най-големия кръг



5	5
4	4
3	3
2	2
1	1