





Колко тежат кошниците?

- Прочетете продуктите и техните килограми.
- Сметнете колко общо килограма тежи всяка кошница.
- Попълнете изречението под нея.
- Нарисувайте продуктите в кошниците.




Луско

<p>Кошница 1:</p> <ul style="list-style-type: none">• диня – 5 кг.• ябълки – 3 кг.• краставици – 2 кг. <p>Кошницата на Луско тежи: _____ кг.</p>	
<p>Кошница 2:</p> <ul style="list-style-type: none">• тиква – 6 кг.• круши – 1 кг.• домати – 3 кг. <p>Кошницата на Луско тежи: _____ кг.</p>	
<p>Кошница 3:</p> <ul style="list-style-type: none">• царевица – 4 кг.• зеле – 4 кг.• моркови – 2 кг. <p>Кошницата на Луско тежи: _____ кг.</p>	

Най-тежката кошница на Луско тежи: _____ кг.

Колко тежат кошниците?

- Прочетете продуктите и техните килограми.
- Сметнете колко общо килограма тежи всяка кошница.
- Попълнете изречението под нея.
- Нарисувайте продуктите в кошниците.




Мецана

<p>Кошница 1:</p> <ul style="list-style-type: none">• пъпеша – 7 кг.• ябълки – 1 кг.• моркови – 2 кг. <p>Кошницата на Мецана тежи: _____ кг.</p>	
<p>Кошница 2:</p> <ul style="list-style-type: none">• тиква – 8 кг.• домати – 1 кг.• краставици – 1 кг. <p>Кошницата на Мецана тежи: _____ кг.</p>	
<p>Кошница 3:</p> <ul style="list-style-type: none">• картофи – 6 кг.• круши – 3 кг.• зеле – 1 кг. <p>Кошницата на Мецана тежи: _____ кг.</p>	

Най-тежката кошница на Мецана тежи: _____ кг.

Колко тежат кошниците?

- Прочетете продуктите и техните килограми.
- Сметнете колко общо килограма тежи всяка кошница.
- Попълнете изречението под нея.
- Нарисувайте продуктите в кошниците.



Зайо

<p>Кошница 1:</p> <ul style="list-style-type: none">• зеле – 5 кг.• краставици – 3 кг.• моркови – 2 кг. <p>Кошницата на Зайо тежи: _____ кг.</p>	
<p>Кошница 2:</p> <ul style="list-style-type: none">• ябълки – 2 кг.• домати – 6 кг.• тиквички – 2 кг. <p>Кошницата на Зайо тежи: _____ кг.</p>	
<p>Кошница 3:</p> <ul style="list-style-type: none">• диня – 4 кг.• круши – 4 кг.• царевица – 2 кг. <p>Кошницата на Зайо тежи: _____ кг.</p>	

Най-тежката кошница на Зайо тежи: _____ кг.

Колко тежат кошниците?

- Прочетете продуктите и техните килограми.
- Сметнете колко общо килограма тежи всяка кошница.
- Попълнете изречението под нея.
- Нарисувайте продуктите в кошниците.



Бухльо

<p>Кошница 1:</p> <ul style="list-style-type: none">• тиква – 3 кг.• диня – 6 кг.• ябълки – 1 кг. <p>Кошницата на Бухльо тежи: _____ кг.</p>	
<p>Кошница 2:</p> <ul style="list-style-type: none">• зеле – 7 кг.• домати – 2 кг.• краставици – 1 кг. <p>Кошницата на Бухльо тежи: _____ кг.</p>	
<p>Кошница 3:</p> <ul style="list-style-type: none">• моркови – 3 кг.• пъпеш – 4 кг.• царевица – 3 кг. <p>Кошницата на Бухльо тежи: _____ кг.</p>	

Най-тежката кошница на Бухльо тежи: _____ кг.

Колко тежат кошниците?

- Прочетете продуктите и техните килограми.
- Сметнете колко общо килограма тежи всяка кошница.
- Попълнете изречението под нея.
- Нарисувайте продуктите в кошниците.



Катеричко


<p>Кошница 1:</p> <ul style="list-style-type: none">• лешници – 2 кг.• гъби – 3 кг.• ябълки – 5 кг. <p>Кошницата на Катеричко тежи: _____ кг.</p>	
<p>Кошница 2:</p> <ul style="list-style-type: none">• домати – 4 кг.• царевица – 3 кг.• тиква – 3 кг. <p>Кошницата на Катеричко тежи: _____ кг.</p>	
<p>Кошница 3:</p> <ul style="list-style-type: none">• круши – 6 кг.• жълъди – 2 кг.• моркови – 2 кг. <p>Кошницата на Катеричко тежи: _____ кг.</p>	

Най-тежката кошница на Катеричко тежи: _____ кг.

Колко тежат кошниците?

- Прочетете продуктите и техните килограми.
- Сметнете колко общо килограма тежи всяка кошница.
- Попълнете изречението под нея.
- Нарисувайте продуктите в кошниците.

Глиганчо




<p>Кошница 1:</p> <ul style="list-style-type: none">• диня – 5 кг• картофи – 2 кг• круши – 3 кг <p>Кошницата на Глиганчо тежи: _____ кг.</p>	
<p>Кошница 2:</p> <ul style="list-style-type: none">• зеле – 2 кг• тиква – 5 кг• домати – 3 кг <p>Кошницата на Глиганчо тежи: _____ кг.</p>	
<p>Кошница 3:</p> <ul style="list-style-type: none">• ябълки – 4 кг• пъпеш – 5 кг• моркови – 1 кг <p>Кошницата на Глиганчо тежи: _____ кг.</p>	

Най-тежката кошница на Глиганчо тежи: _____ кг.

Колко тежат кошниците?

- Прочетете продуктите и техните килограми.
- Сметнете колко общо килограма тежи всяка кошница.
- Попълнете изречението под нея.
- Нарисувайте продуктите в кошниците.

Жабчо




<p>Кошница 1:</p> <ul style="list-style-type: none">• домати – 3 кг• тиквички – 5 кг• краставици – 2 кг <p>Кошницата на Жабчо тежи: _____ кг.</p>	
<p>Кошница 2:</p> <ul style="list-style-type: none">• царевица – 4 кг• моркови – 1 кг• зеле – 5 кг <p>Кошницата на Жабчо тежи: _____ кг.</p>	
<p>Кошница 3:</p> <ul style="list-style-type: none">• тиква – 7 кг• картофи – 2 кг• круши – 1 кг <p>Кошницата на Жабчо тежи: _____ кг.</p>	

Най-тежката кошница на Жабчо тежи: _____ кг.

Колко тежат кошниците?

- Прочетете продуктите и техните килограми.
- Сметнете колко общо килограма тежи всяка кошница.
- Попълнете изречението под нея.
- Нарисувайте продуктите в кошниците.



Язовеца

<p>Кошница 1:</p> <ul style="list-style-type: none">• круши – 4 кг• царевица – 3 кг• моркови – 3 кг <p>Кошницата на Язовеца тежи: _____ кг.</p>	
<p>Кошница 2:</p> <ul style="list-style-type: none">• домати – 6 кг• картофи – 3 кг• зеле – 1 кг <p>Кошницата на Язовеца тежи: _____ кг.</p>	
<p>Кошница 3:</p> <ul style="list-style-type: none">• тиква – 8 кг• ябълки – 1 кг• краставици – 1 кг <p>Кошницата на Язовеца тежи: _____ кг.</p>	

Най-тежката кошница на Язовеца тежи: _____ кг

Колко тежат кошниците?

- Прочетете продуктите и техните килограми.
- Сметнете колко общо килограма тежи всяка кошница.
- Попълнете изречението под нея.
- Нарисувайте продуктите в кошниците.



Еленчето

<p>Кошница 1:</p> <ul style="list-style-type: none">• гъби – 1 кг• домати – 4 кг• краставици – 5 кг <p>Кошницата на Еленчето тежи: ____ кг.</p>	
<p>Кошница 2:</p> <ul style="list-style-type: none">• тиква – 6 кг• зеле – 3 кг• ябълки – 1 кг <p>Кошницата на Еленчето тежи: ____ кг.</p>	
<p>Кошница 3:</p> <ul style="list-style-type: none">• картофи – 4 кг• царевица – 2 кг• моркови – 4 кг <p>Кошницата на Еленчето тежи: ____ кг.</p>	

Най-тежката кошница на Еленчето тежи: _____ кг

Колко тежат кошниците?

- Прочетете продуктите и техните килограми.
- Сметнете колко общо килограма тежи всяка кошница.
- Попълнете изречението под нея.
- Нарисувайте продуктите в кошниците.



Мишлето

<p>Кошница 1:</p> <ul style="list-style-type: none">• лешници – 2 кг• ябълки – 3 кг• гъби – 5 кг <p>Кошницата на Мишлето тежи: _____ кг.</p>	
<p>Кошница 2:</p> <ul style="list-style-type: none">• круши – 6 кг• тиквички – 3 кг• моркови – 1 кг <p>Кошницата на Мишлето тежи: _____ кг.</p>	
<p>Кошница 3:</p> <ul style="list-style-type: none">• домати – 4 кг• жъльди – 2 кг• картофи – 4 кг <p>Кошницата на Мишлето тежи: _____ кг.</p>	

Най-тежката кошница на Мишлето тежи: _____ кг