




## Единици и десетици

Име: \_\_\_\_\_ Дата: \_\_\_\_\_

1. Записан е броят животни от всеки вид във фермата. Представете числото като сбор от десетици и единици. Представи количеството с рисунка.

Животно	Брой	Десетици	Единици	Изобрази броя на животните
зайци 	61	6	1	
крави 	27			
кози 	34			

Животно	Брой	Десетици	Единици	Изобрази броя на животните
овце 	42			
патици 	72			
кокошки 	58			