


Имена: Дата:.....

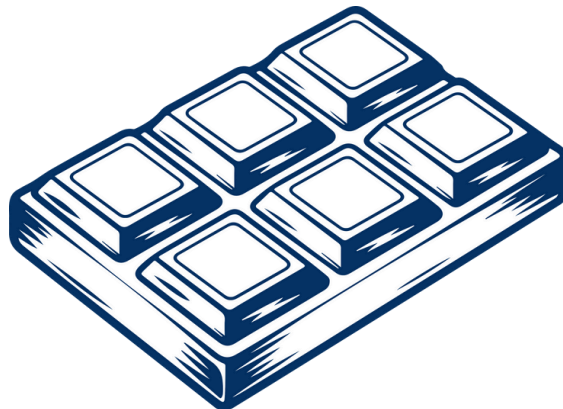
Часту от цяло

Задача 1 – Оцветете частите и ги представете като гроб




Оцвети половинката

Запиши каква част от картинката е оцветена като гроб



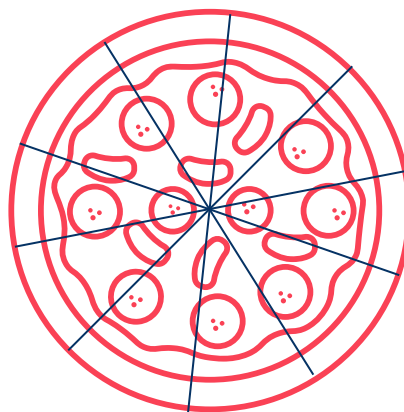
Оцвети третинката

Запиши каква част от картинката е оцветена като гроб



Оцвети четвъртинката

Запиши каква част от картинката е оцветена като гроб



Оцвети десетинката

Запиши каква част от картинката е оцветена като гроб

Задача 2 – Пресметнете количествата за рецептите

Пресметни количествата продукти за дадените части:

1. Четвъртинката от 100 г брашно → _____ г
2. Половинката от 1 кг брашно → _____ г
3. Третинката от 300 мл мляко → _____ мл
4. Десетинката от 500 г захар → _____ г
5. Половинката от 250 г масло → _____ г
6. Четвъртинката от 800 г сирене → _____ г
7. Третинката от 450 мл сок → _____ мл
8. Десетинката от 2 кг ябълки → _____ г
9. Четвъртинката от 600 г шоколад → _____ г
10. Половинката от 1 кг 200 г ориз → _____ г
11. Третинката от 900 г мляно месо → _____ г
12. Десетинката от 750 г тесто → _____ г

