

Природа и време

Име: _____ Дата: _____

Инструкции:

Прочетете задачите внимателно и пресметнете. Използвайте знанията си за мерните единици за време. Където е удобно, може да използвате таблично умножение или деление.

Задача 1 – Преобразуване на мерни единици за време

Пиленце се излюпва след 21 дни. Колко седмици са това?

Слънчогледът се нуждае от 2 седмици, за да порасне достатъчно висок. Колко дни са това?

Насекомите едnodневки живеят едно денонощие. Колко часа са това?

Задача 2 – Време и природата

Катеричка събира храна 1 час на ден. Колко минути е това?

Лястовицата пътува 2 седмици, за да стигне до топлите страни. Колко дни са това?

Кокичетата остават разцъфнали 14 дни. Колко седмици са това?




Задача 3 – Таблично умножение и деление

Една пчела посещава 5 цветя за 1 минута. Колко цветя ще посети за 7 минути?

Заекът спи 8 часа на ден. Колко часа спи за 5 дни?

Щъркелите летят около 3 седмици, когато се връщат от юг. Колко дни са това?

Задача 4 – В колко часа?

	Часовникът показва кога цветето започнало да цъфти. Колко е часът?	_____ ч.
	Часовникът показва кога слънцето е изгряло. Колко е часът?	_____ ч.
	Часовникът показва кога щъркелът се е върнал в гнездото си. Колко е часът?	_____ ч.