

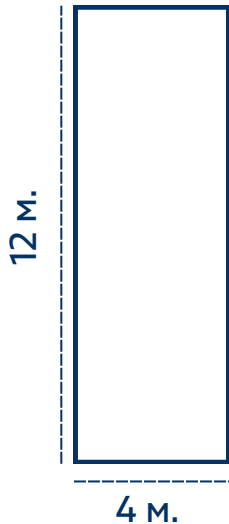
Обиколка и лице

Инструкции:

За всяка фигура изчислете обиколката и/или лицето, и запишете правилните мерни единици. Където е възможно използвайте умножение.

Задача 1: Пътечка

Правоъгълна пътечка има дължина 12 м и ширина 4 м.

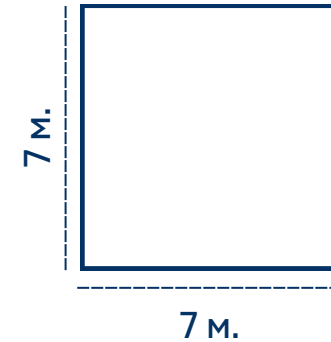


Обиколка:

Лице:

Задача 2: Квадратна леха с цветя

Леха с цветя е във формата на квадрат със страна 7 м.



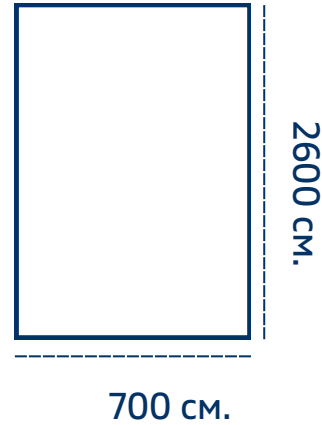
Обиколка:

Лице:

Задача 3: Малка тревна площ

Правоъгълна тревна площ има дължина 2600 см и ширина 700 см.

Обиколка:



Лице:

Задача 4: Зона за пейки

Зона за пейки в парк е с във формата на правоъгълник със страни 230 м. и 50 м.

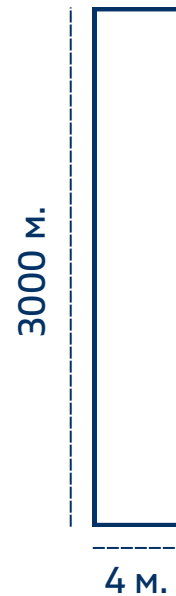


Обиколка:

Лице:

Задача 5: Парк

Дълга алея в парк, която е с правоъгълна форма, е със страни 3000 м и 4 м.



Обиколка:

Лице:
