



—	—	—
—	—	—
—	—	—

—	—	—
—	—	—
—	—	—



—	—	—
—	—	—
—	—	—

—	—	—
—	—	—
—	—	—

1. Преди мисията имахме ____ супергерои.

На мисия отлетяха ____ супергерои.

Останаха ____ супергерои.

$$\square - \square = \square$$

2. Преди мисията имахме ____ супергерои.

На мисия отлетяха ____ супергерои.

Останаха ____ супергерои.

$$\square - \square = \square$$

3. Преди мисията имахме ____ супергерои.

На мисия отлетяха ____ супергерои.

Останаха ____ супергерои.

$$\square - \square = \square$$

4. Преди мисията имахме ____ супергерои.

На мисия отлетяха ____ супергерои.

Останаха ____ супергерои.

$$\square - \square = \square$$

5. Преди мисията имахме ____ супергерои.

На мисия отлетяха ____ супергерои.

Останаха ____ супергерои.

$$\square - \square = \square$$

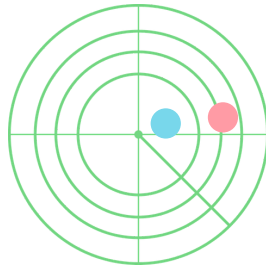
6. Преди мисията имахме ____ супергерои.

На мисия отлетяха ____ супергерои.

Останаха ____ супергерои.

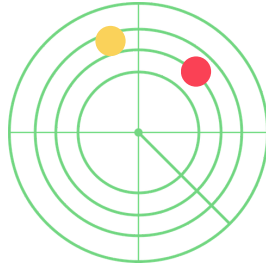
$$\square - \square = \square$$

1.



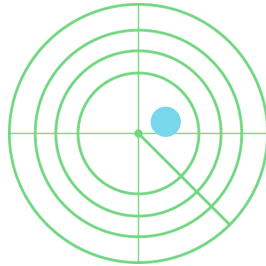
$$5 - 3 = 2$$

2.



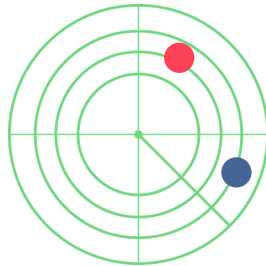
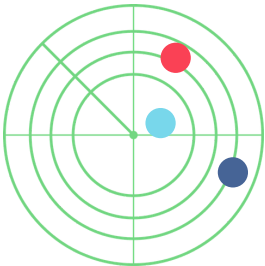
$$2 - 3 = 2$$

3.



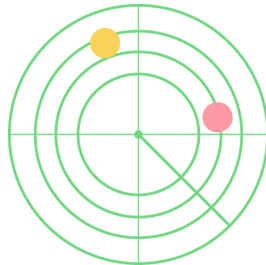
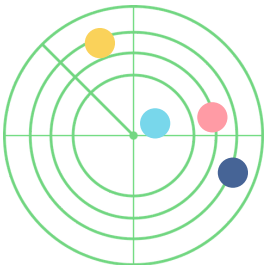
$$3 - 3 = 1$$

4.



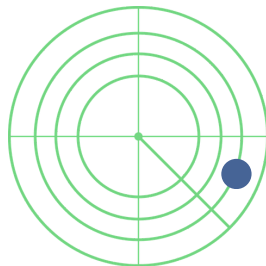
$$3 - 0 = 2$$

5.



$$2 - 3 = 3$$

6.



$$5 - 4 = 1$$


1. Заграскай гве



-

=


Заграскай нула



-

=

Заграскай четири



-

=

2. Попълни

$$5 - 1 = \underline{\quad}$$

$$5 - 3 = \underline{\quad}$$

$$5 - 5 = \underline{\quad}$$

3. Свържи

$$5 - 1 =$$

$$5 - 3 =$$

$$5 - 0 =$$

