

КРЪСТОСЛОВИЦА


Клас: 4. ____

Име: _____

Дата: _____



Реши кръстословицата.



Вертикално:

1. Върхът, който е най-висок в Стара планина.
2. Исторически проход в Стара планина, свързан с важни битки.
3. Български град, в който е основано първото светско училище, днес извесно като Априловската гимназия.

Хоризонтално:

4. Строителен материал, добиван от горите.
5. Най-дългата река в България.
6. Старата столица на Второто българско царство, известна с крепостта Царевец.



КРЪСТОСЛОВИЦА

Вертикално:

1. Върхът, който е най-висок в Стара планина. - Ботев
2. Исторически проход в Стара планина, свързан с важни битки. - Шипка
3. Български град, в който е основано първото светско училище, днес известно като Априловската гимназия. - Габрово

Хоризонтално:

4. Строителен материал, добиван от горите. - дървесина
5. Най-дългата река в България. - Искър
6. Старата столица на Второто българско царство, известна с крепостта Царевец. - Търново



ИЗСЛЕДОВАТЕЛИ НА СТАРОПЛАНИНСКА ОБЛАСТ

Клас: 4. ____

Име: _____

Дата: _____

Потърси информация и отговори на въпросите.

ГРУПА 1: МЕСТОПОЛОЖЕНИЕ И ВЪРХОВЕ

1. Къде се намира Старопланинската област? (От север на юг, от запад на изток)

2. Кой е най-високият връх в Стара планина?

3. Интересен факт за Стара планина:

ИЗСЛЕДОВАТЕЛИ НА СТАРОПЛАНИНСКА ОБЛАСТ

Човек и общество

4 клас



Клас: 4. ____

Име: _____

Дата: _____

Потърси информация и отговори на въпросите.

ГРУПА 2: РЕКИ И ПРОЛОМИ

1. Кои са най-големите реки, които извират или преминават през Стара планина?

2. Какви други водни обекти и забележителности се намират в Старопланинската област?

3. Какво е „пролом“?

ИЗСЛЕДОВАТЕЛИ НА СТАРОПЛАНИНСКА ОБЛАСТ

Човек и общество

4 клас



Клас: 4. ____

Име: _____

Дата: _____

Потърси информация и отговори на въпросите.

ГРУПА 3: ХОРА И ПОМИНЪК

1. С какви стопански дейности се занимават хората в Старопланинската област?

2. Какво се добива от Стара планина?

3. Защо туризмът е важен за този район?

ИЗСЛЕДОВАТЕЛИ НА СТАРОПЛАНИНСКА ОБЛАСТ

Човек и общество

4 клас



Клас: 4. ____

Име: _____

Дата: _____

Потърси информация и отговори на въпросите.

ГРУПА 4: ГРАДОВЕ И ИСТОРИЯ

1. Кои са по-големите градове в Старопланинската област?

2. Какви културни забележителности има в по-големите градове на Старопланинска област?

3. Кой исторически проход свързва Севера и Юга на България?



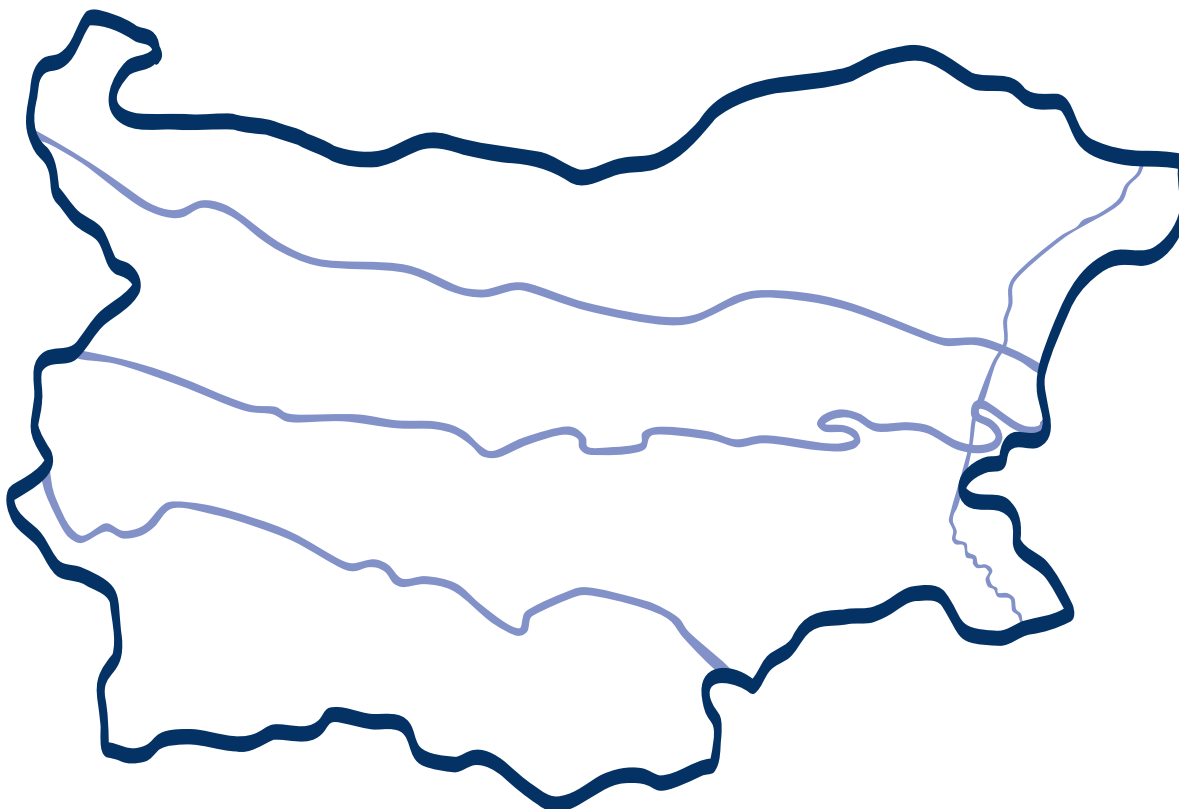
ПОЗНАВАМ СТАРА ПЛАНИНА

Клас: 4. ____

Име: _____

Дата: _____

1. Оцвети Старопланинската област в подходящи цветове.
2. Нанеси на картата с подходящи знаци и наименованията на следните обекти: находища на въглища, пр. Витиния, пр. Шипка, вр. Ботев, гр. Велико Търново, гр. Враца, гр. Габрово, яз. Тича, Стара планина.



3. Опиши основните стопански дейности, с които хората се препитават.

САМООЦЕНКА

Как се справи с този работен лист?



РАБОТЕН ЛИСТ 4

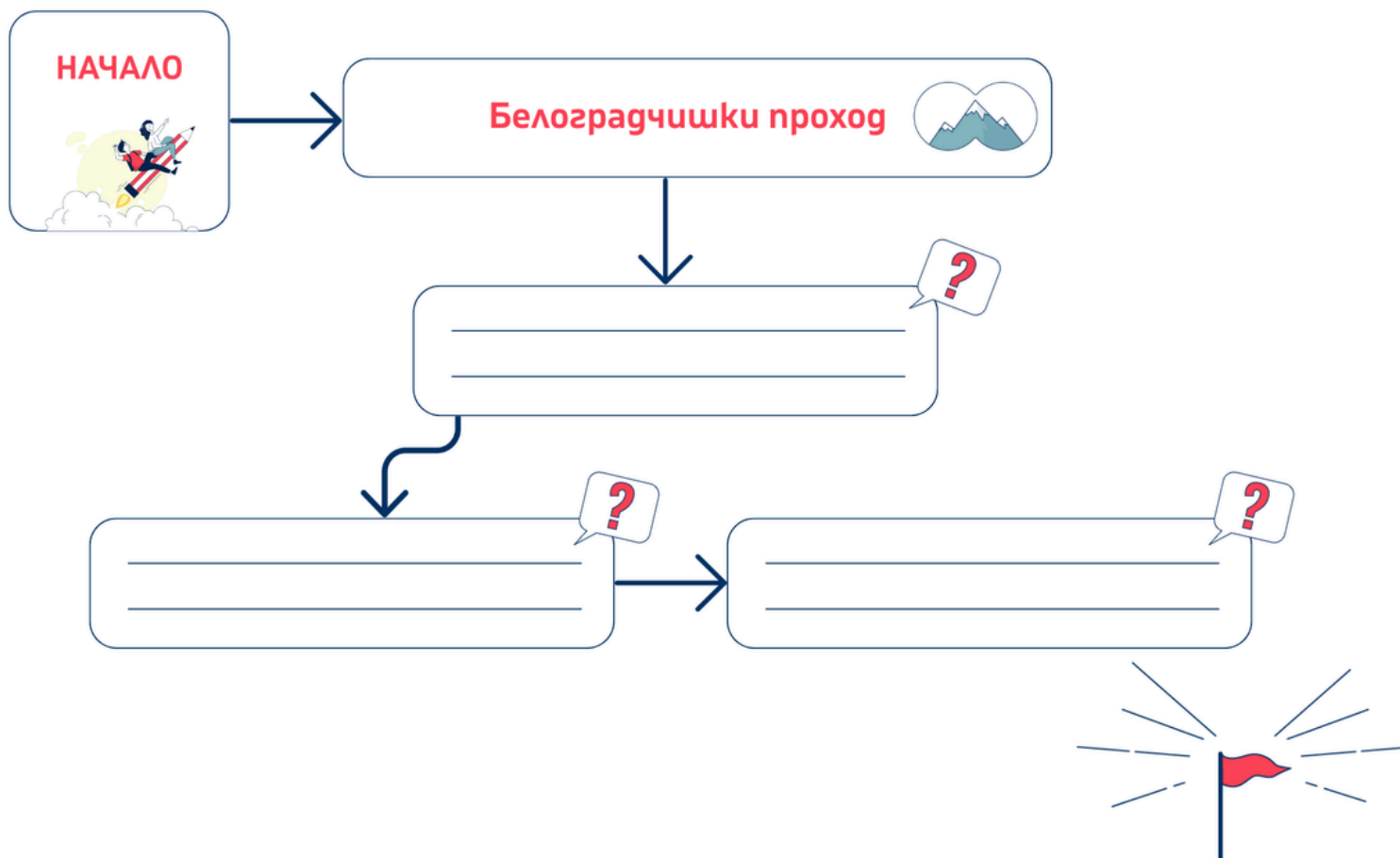
ПЛАН ЗА ЕКСКУРЗИЯ ПРЕЗ СТАРОПЛАНИНСКАТА ОБЛАСТ

Човек и общество

4 клас



Клас: 4. ____
Име: _____
Дата: _____



Запиши обектите, през които ще преминете в “мислената” екскурзия през Старопланинската област.
Довърши “пътечката”.



СПИСЪК С ОБЕКТИ ЗА „КАРТОГРАФСКА НАДПРЕВАРА 2”

ВРЪХ БОТЕВ

ГАБРОВО

РЕКА ИСКЪР

ШИПЧЕНСКИ ПРОХОД

ВЕЛИКО ТЪРНОВО

БОТЕВГРАД









ЯЗ. ТИЧА


ТРОЯНСКИ ПРОХОД




КАРТОНЧЕ ЗА БЪРЗИНА И ТОЧНОСТ

НА: _____






ДЪРВОДОБИВ




**МЕБЕЛИ И СТРОИТЕЛНИ
МАТЕРИАЛИ**




ЖИВОТНОВЪДСТВО



МЕСО, ЯЙЦА, МЛЯКО..



ЗЕМЕДЕЛИЕ



**ЗЕЛЕНЧУЦИ, ПЛОДОВЕ,
ОВЕС..**

