
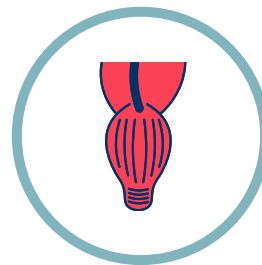
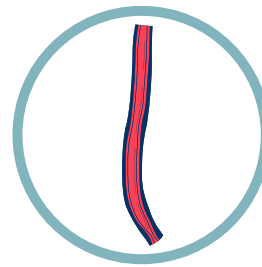





Пътят на една хапка

1. Начертайте пътя на хапката през човешкия организъм, като поставите стрелки, които показват посоката на движение от един орган към друг.



2. Опишете какво се случва с храната на всеки етап от пътя.

Орган	Какво се случва с храната?
Стомах	
Хранопровод	
Анус	
Дебело черво	
Тънки черва	
Уста	

3. Прочетете описанието и напишете името на органа, за който се отнася:

- Тук храната се раздробява механично -
- Тук храната се разбърква и разгражда от храносмилателни сокове -
.....
- Тук се всмуква вода от остатъчните вещества -
- Тук хранителните вещества преминават в кръвта -