
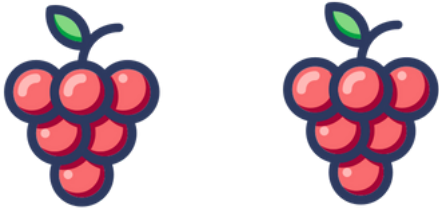



Вариант 1

Броене и умножение

Име: \_\_\_\_\_

1. Реши задачите с умножение.




		
<p>На едно клонче има 4 листа. Клончетата са 3. Колко листа има общо?</p>	<p>В един грозд има 6 зърна. Гроздовете са 2. Колко зърна има общо?</p>	<p>В едно гнездо има 5 птичета. Гнездата са 4. Колко птичета има общо?</p>
<p>_____</p> <p>_____</p> <p>_____</p> <p>_____</p>	<p>_____</p> <p>_____</p> <p>_____</p> <p>_____</p>	<p>_____</p> <p>_____</p> <p>_____</p> <p>_____</p>

Вариант 2

Броене и умножение

Име: \_\_\_\_\_

1. Реша задачите с умножение.

		
<p>На едно дърво има 8 ябълки. Дърветата са 5. Колко ябълки има общо?</p>	<p>Под едно дърво растат 2 гъби. Такива дървета са 4. Колко гъби има общо?</p>	<p>На един камък има 2 охлюва. Камъните са 6. Колко охлюва има общо?</p>
<p>_____</p> <p>_____</p> <p>_____</p> <p>_____</p>	<p>_____</p> <p>_____</p> <p>_____</p> <p>_____</p>	<p>_____</p> <p>_____</p> <p>_____</p> <p>_____</p>

Вариант 3

# Броене и умножение

Име: \_\_\_\_\_

## 1. Реша задачите с умножение.


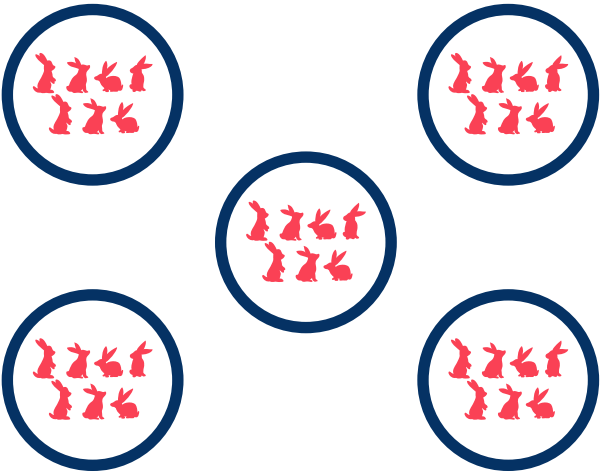

		
<p>В една леха има 5 цветя. Лехите са 6. Колко цветя има общо?</p>	<p>Една катерица има 1 жълъд. Катериците са 3. Колко жълъда има общо?</p>	<p>В един кошер има 9 пчели. Кошерите са 3. Колко пчели има общо?</p>
<p>_____</p> <p>_____</p> <p>_____</p> <p>_____</p>	<p>_____</p> <p>_____</p> <p>_____</p> <p>_____</p>	<p>_____</p> <p>_____</p> <p>_____</p> <p>_____</p>

Вариант 4

Броене и умножение

Име: \_\_\_\_\_

1. Реша задачите с умножение.

		
<p>В едно езеро плуват 6 патета. Такива езера са 3. Колко патета има общо?</p>	<p>В дупка в земята има 7 зайчета. Дупките са 5. Колко зайчета има общо?</p>	<p>Едно цвете има 6 листенца. Цветята са 4. Колко листенца има общо?</p>
<p>_____</p> <p>_____</p> <p>_____</p> <p>_____</p>	<p>_____</p> <p>_____</p> <p>_____</p> <p>_____</p>	<p>_____</p> <p>_____</p> <p>_____</p> <p>_____</p>

Вариант 5

Броене и умножение

Име: \_\_\_\_\_

1. Реша задачите с умножение.


		
<p>В едно гнездо има 3 яйца. Гнездата са 7. Колко яйца има общо?</p>	<p>В един ред има 5 моркова. Редовете са 2. Колко моркова има общо?</p>	<p>На едно цвете са кацнали 2 пеперуги. Цветята са 6. Колко пеперуги има общо?</p>
<p>_____</p> <p>_____</p> <p>_____</p> <p>_____</p>	<p>_____</p> <p>_____</p> <p>_____</p> <p>_____</p>	<p>_____</p> <p>_____</p> <p>_____</p> <p>_____</p>

Вариант 6

# Броене и умножение

Име: \_\_\_\_\_

1. Реши задачите с умножение.




		
<p>В един двор има 2 крави. Дворовете са 3. Колко крави има общо?</p>	<p>В един грозд има 4 банана. Гроздовете са 4. Колко банана има общо?</p>	<p>На едно дърво има 3 катерици. Дърветата са 3. Колко катерици има общо?</p>
<p>_____</p> <p>_____</p> <p>_____</p> <p>_____</p>	<p>_____</p> <p>_____</p> <p>_____</p> <p>_____</p>	<p>_____</p> <p>_____</p> <p>_____</p> <p>_____</p>

Вариант 7

Броене и умножение

Име: \_\_\_\_\_

1. Реша задачите с умножение.



		
<p>В една кошница има 6 ябълки. Кошниците са 7. Колко ябълки има общо?</p>	<p>На един прозорец спи 1 котка. Прозорците са 5. Колко котки има общо?</p>	<p>В едно езеро има 8 риби. Езерата са 7. Колко риби има общо?</p>
<p>_____</p> <p>_____</p> <p>_____</p> <p>_____</p>	<p>_____</p> <p>_____</p> <p>_____</p> <p>_____</p>	<p>_____</p> <p>_____</p> <p>_____</p> <p>_____</p>

Вариант 8

# Броене и умножение

Име: \_\_\_\_\_

## 1. Реша задачите с умножение.

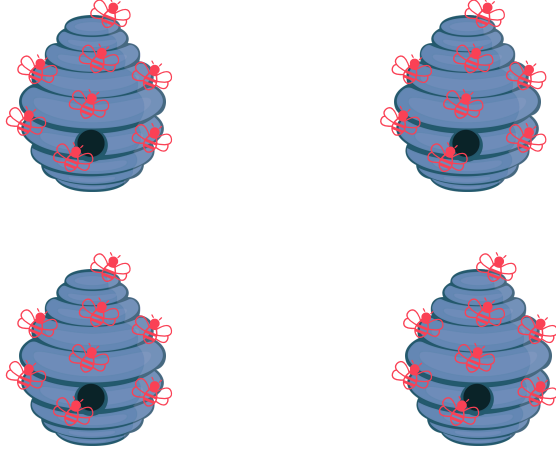
		
<p>На едно клонче са кацнали 3 птички. Клончетата са 5. Колко птички има общо?</p>	<p>На една кошница има 4 гъбки. Кошниците са 4. Колко гъбки има общо?</p>	<p>На една пътечка вървят 9 мравки. Пътечките са 2. Колко мравки има общо?</p>
<p>_____</p> <p>_____</p> <p>_____</p> <p>_____</p>	<p>_____</p> <p>_____</p> <p>_____</p> <p>_____</p>	<p>_____</p> <p>_____</p> <p>_____</p> <p>_____</p>

Вариант 9

# Броене и умножение

Име: \_\_\_\_\_

**1. Реша задачите с умножение.**




		
<p>В една градина има 7 слънчогледа. Такива градини са 2. Колко слънчогледа има общо?</p>	<p>В едно езеро има 4 патици. Езерата са 3. Колко патици има общо?</p>	<p>В един кошер има 8 пчели. Кошерите са 4. Колко пчели има общо?</p>
<p>_____</p> <p>_____</p> <p>_____</p> <p>_____</p>	<p>_____</p> <p>_____</p> <p>_____</p> <p>_____</p>	<p>_____</p> <p>_____</p> <p>_____</p> <p>_____</p>

Вариант 10

Броене и умножение

Име: \_\_\_\_\_

1. Реша задачите с умножение.

		
<p>В един ред има 8 дини. Редовете са 2. Колко дини има общо?</p>	<p>В едно гнездо има 4 щъркела. Гнездата са 5. Колко щъркела има общо?</p>	<p>На един камък има по 1 жаба. Камъните са 6. Колко жаби има общо?</p>
<p>_____</p> <p>_____</p> <p>_____</p> <p>_____</p>	<p>_____</p> <p>_____</p> <p>_____</p> <p>_____</p>	<p>_____</p> <p>_____</p> <p>_____</p> <p>_____</p>